

A romániai magyar kisebbség történelme és hagyományai tantárgyverseny VI. osztály, országos szakasz Marosvásárhely, 2023. április 20–23.

Toate subiectele sunt obligatorii. Se acordă 10 puncte din oficiu. Timpul de lucru efectiv este de 2 ore.

Minden tétel kötelező. Hivatalból 10 pont jár. Munkaidő 2 óra.

FIGYELEM! Minden megoldást írjatok át a vizsgalapra, a piszkozaton vagy a feladatlapon szereplő megoldásokat a javítók nem veszik figyelembe!

I. Mit/kit ábrázolnak az alábbi képek?

10 pont

a



b



c



d



e



II. Alkossatok egy megközelítőleg 15 mondatos szöveget a XIII. században zajló hatalmas magyarországi pusztításról a következő szavak felhasználásával: IV. Béla, Spalato, mongolok, kunok, kolostor, kővár, Batu kán, Sajó, Julianus barát, Muhi.

Megjegyzés! Pontozzák a történelmi nyelvezet helyes használatát, a történelmi események időrendi és logikai sorrendben való bemutatását és a megadott terjedelem betartását.

15 pont

III. Kössétek össze a találó párokat! A vizsgalpra a helyes betű-szám párokat írjátok le.

20 pont

A	V. László	a rigómezei csata vesztese	1
B	Nagy Lajos	a visegrádi királytalálkozó szervezője	2
C	I. Anjou Károly	Dobzse László volt a gúnyneve	3
D	I. Ulászló	életét veszti a várnai hadjáratban	4
E	Hunyadi Mátyás	a Sárkány-rend alapítója	5
F	Luxemburgi Zsigmond	kiskorúsága idején kormányzót neveznek ki	6
G	Hunyadi János	az ősiség törvényének bevezetője	7
H	II. Lajos	az 1538-as váradi béke aláírója	8
I	Habsburg Ferdinánd	a Duna jegén megválasztott király	9
J	II. Ulászló	életét veszti a Csele patakban	10

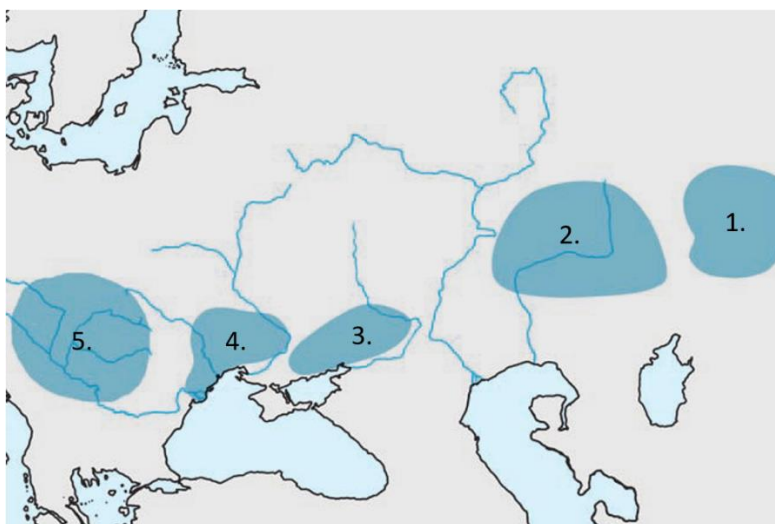
IV. Összekeveredtek a betűk. Állítsátok őket helyes sorrendbe!

10 pont

- VEKONTN =
- NYAHTI =
- MALPOANHMAN =
- MONKOZSOLTOROS =
- CEBÉNKES =

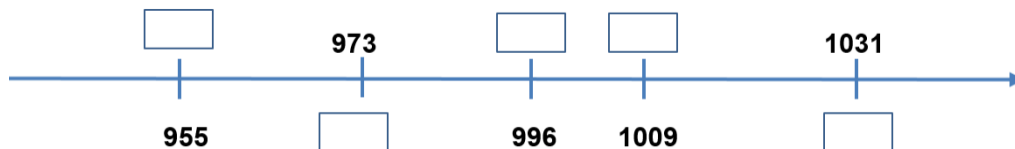
V. A mellékelt vaktérkép az ősmagyarok vándorlásának állomásait mutatja be. Nevezzétek meg ezeket, feltüntetve a vizsgalapon a megfelelő számot.

5 pont

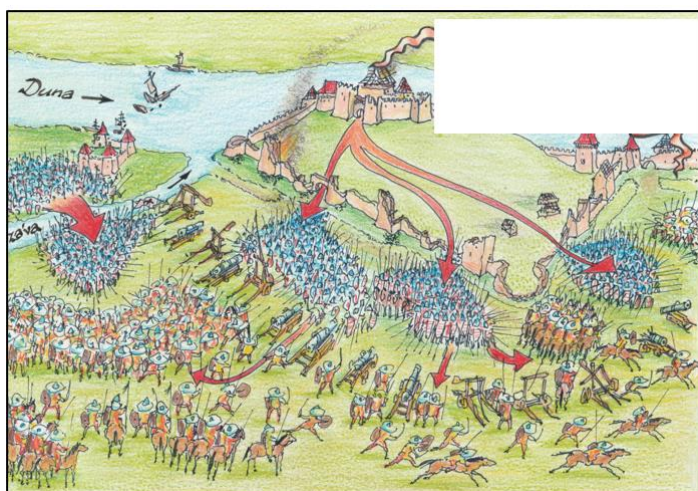


VI. Helyezték el az idővonalon az alábbi eseményeket. A vizsgalpra a helyes esemény-évszám párost írjátok le.

a. a pannonhalmi bencés apátság alapítása; b. Szent Imre herceg halála; c. az erdélyi püspökség megalapítása; d. a quedlinburgi találkozó; e. augsburgi csata. **10 pont**



VII. Tanulmányozták a képeket, olvassátok el a szövegeket és válaszoljatok a kérdésekre!



c. „...Végül kimentünk rájuk a váron kívül, és estig harcoltunk velük, és a törökök császárat Isten segítségével kivertük a mondott várból, minden ágyúját és hadieszközét elnyertük, ő pedig maga azokkal, akik megmaradtak, péntek éjjel legyőzve elmenekült.”

(részlet Garai Lászlónak írt levélből)

d. „...sok vért ontottak ki, és mindkét fél bajnívóiból a fűrgő halak számára lett eledel. Végre hosszú küzdelem után a magyarok győztek, és még hevesebben rárohanva a törökökre, szétszaggatták és lángba borították vasláncokkal összekapcsolt hajóikat.”

(Thuróczy János krónikája szerint)

1. Mikor történt a megadott forrásokban jelölt ütközet/várostrom (év, hónap)? **2 pont**
2. Nevezzétek meg a magyar csapatok három főszereplőjét! **3 pont**
3. A fenti források és ismereteitek alapján 10 mondatban foglaljátok össze az ütközet/várostrom eseménytörténetét! A szövegnek követnie kell a történelmi események hitelességét és az időrendiséget! **13 pont**
4. Hol található pontosan a b forrásban megjelenített hadvezér síremléke? **2 pont**